



Colegio Crisol
Profesora Daniela Villanueva Morel
daniela.villanueva@colegiocrisol.cl



Matemática

CLASE N°15

"Valor posicional_ Sumas"

2° año básico



OBJETIVO DE LA CLASE



*

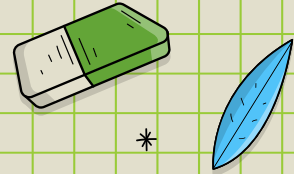


Identificar las unidades y decenas en números del 0 al 100, representando las cantidades de acuerdo a su valor posicional, con material concreto, pictórico y simbólico (OA7)

Demostrar que comprende la adición en el ámbito del 0 al 100: usando un lenguaje cotidiano y matemático para describir acciones desde su propia experiencia.(OA9)



Recuerda valor posicional



Cuaderno de actividades
página 4-6-7
tomo 1



4

Números hasta 100

Texto del Estudiante
Pág. 5
Pág. 7

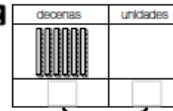
5 minutos

1 ¿Cuántos cubos hay?



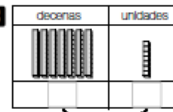
unidades.

2



unidades.

3



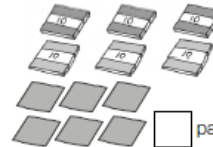
unidades.

4 ¿Cuántos hay?



lápices.

5 ¿Cuántos papeles lustre hay?

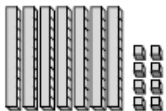


papeles.

6 Completa.

- a) 9 decenas y
4 unidades son:
- b) 7 decenas y
8 unidades son:
- c) 6 decenas son:
- d) 8 decenas y
2 unidades son:

1 Completa.



- a) Hay barras de 10 y cubos sueltos.
- b) barras de 10 son unidades.
- c) Los cubos son .

2 Escribe el número.

- a) Ochenta y seis.
- b) Cuarenta y uno.
- c) El número que tiene 8 decenas, 5 unidades.
- d) El número que tiene 3 decenas y 5 unidades.
- e) Cincuenta y nueve.
- f) Setenta.
- g) Veintidós.

Recuerda decenas y unidades.

decenas	unidades
2	3
veinte	tres

1 Completa.

- a) 5 decenas y 3 unidades.
- b) 1 decena y 6 unidades.
- c) 7 decenas y 2 unidades.
- d) 9 unidades.
- e) 6 decenas.

2 Completa.

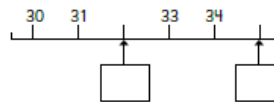
- a)

21	22	<input type="text"/>
24	<input type="text"/>	26
- b)

40	<input type="text"/>	60
<input type="text"/>	80	90
- c)

<input type="text"/>	80	70
60	50	<input type="text"/>

3 Completa.



Leamos los números con cuidado.



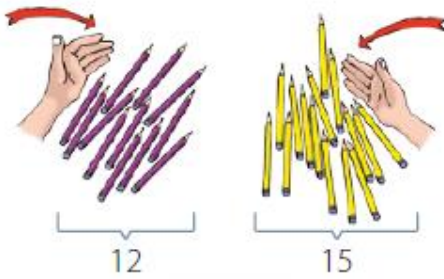
SUMAR



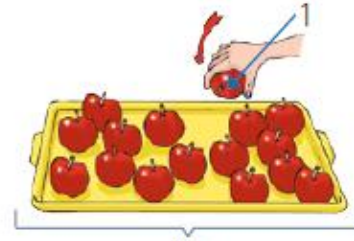
Agregar

Juntar

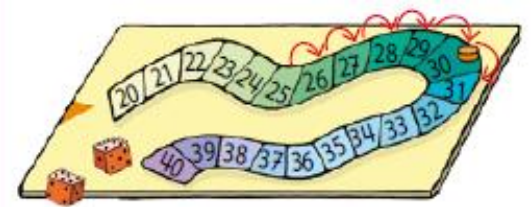
Avanzar




$$12 + 15$$



$$15 + 1$$



$$25 + 6$$



Registra en tu cuaderno las acciones que te permiten sumar.



Sumar



1 Carola recortó 20 estrellas y Ana 30.

¿Cuántas recortaron en total?

a) Escribe una expresión.

b) Pensemos cómo encontrar la respuesta.

Decenas	Unidades

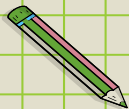
Suma las decenas.



Si cuentas grupos de 10, es $2+3$.



Respuesta: estrellas.



Completa la página 16 de tu libro del estudiante tomo 1.



¿Qué aprendimos hoy?

- * Recordar el valor posicional de los dígitos.

- * Sumar decenas.



¡FELICITACIONES HEMOS TERMINADO!

